

持ち帰り禁止

受験番号

Input boxes for exam number

フリガナ

氏名

Input boxes for name and surname

採点欄

Input box for marking

切り離さないでください

問 1

- (1) ① _____ ② _____ ③ _____
④ _____ ⑤ _____ ⑥ _____
⑦ _____ ⑧ _____ ⑨ _____
⑩ _____ ⑪ _____

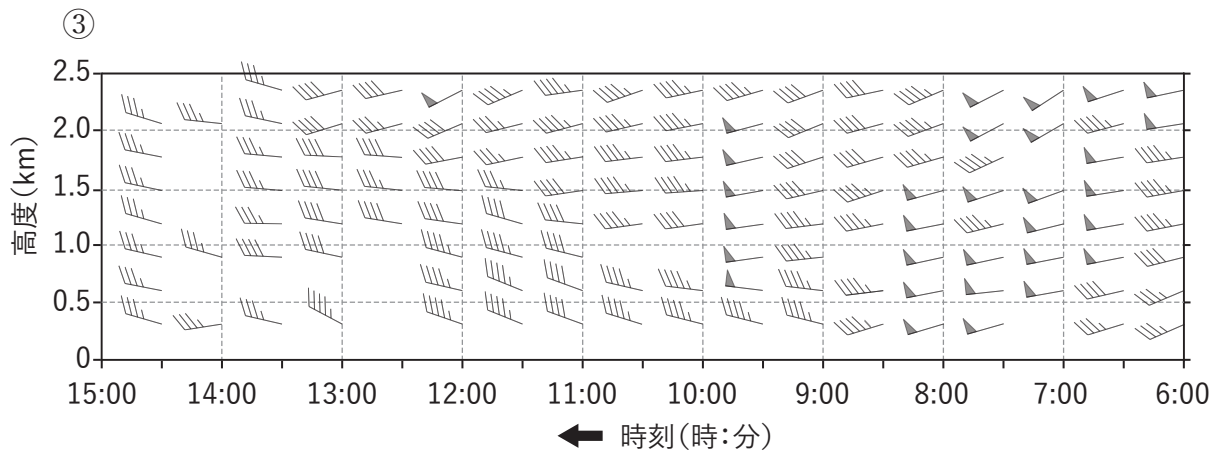
(2) ① 通過時刻: _____ 時 _____ 分

理由

Table for reasoning with a grid and a small diagram showing a vertical line and a horizontal line.

② 通過時刻: _____ 時 _____ 分

分母 F: _____



問 2

(1) トラフ A: 東経 _____ ° トラフ B: 東経 _____ °

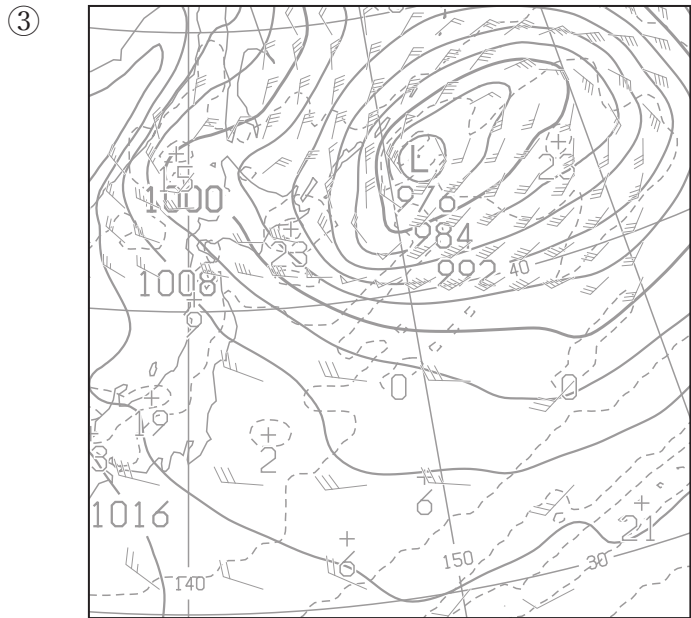
切り離さないでください

(2) ① トラフ A: 方向 _____ 距離 _____ km

トラフ B: 方向 _____ 距離 _____ km

②

2 つの低気圧は、											



(3) ① 700hPa 面の鉛直流分布の特徴

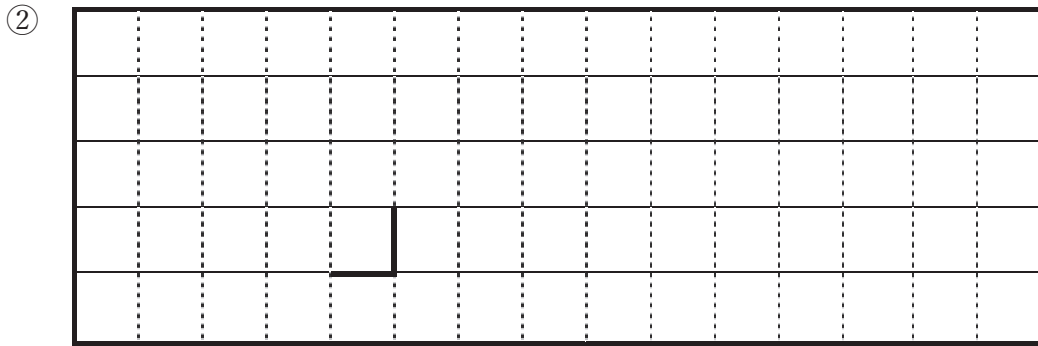
850hPa 面の気温分布の特徴

切り離さないでください

この部分(実線の左側)に書かれた解答は採点しません

切り離さないでください

切り離さないでください



③ _____

④ ア _____ イ _____ ウ _____

エ _____ オ _____ カ _____

キ _____ ク _____ ケ _____

問 3

(1) 雲底の高度 : _____ hPa


参考にした等値線等 : _____

(2) 浮力がなくなる高度 : _____ hPa


雲頂の気温 : _____ °C

問 4

(1) ① 気温分布の特徴



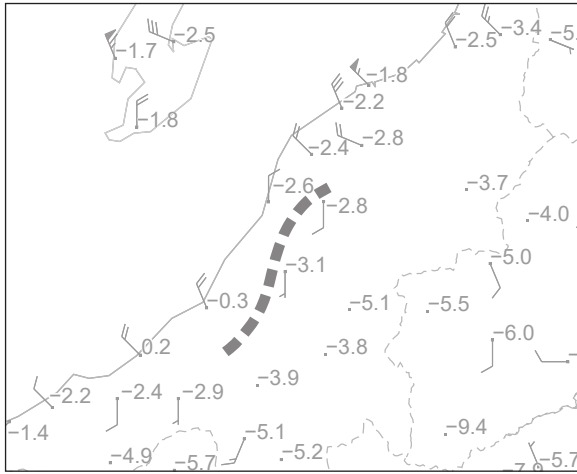
エコー分布の特徴



切り離さないでください

切り離さないでください

②



(2) ① _____ 時

② 最も適切な文章: _____

理由

③ _____

(3) ①

	6時~9時	9時~12時	12時~15時	15時~18時	18時~21時
3時間 降水量 (mm)	/	_____	_____	_____	_____
3時間 降雪量 (cm)	10	_____	_____	_____	_____

② _____

切り離さないでください