

(3) ① _____ 海里

② _____ m

問 4

(1) 平戸： _____ 時 _____ 分 下関： _____ 時 _____ 分

平戸に関する理由

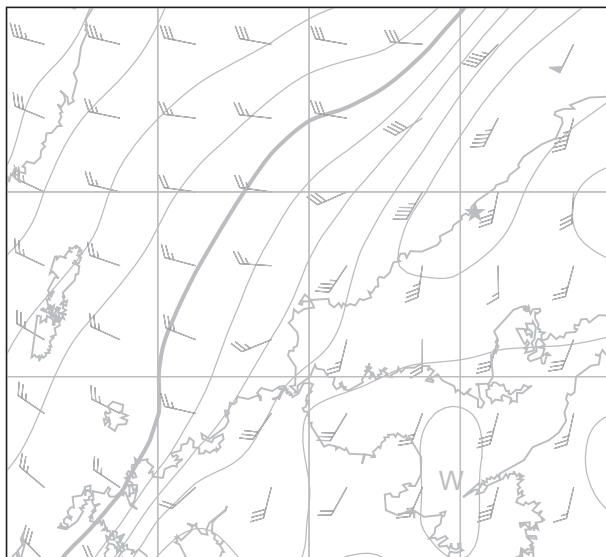
(2) ① 風向

9 時： _____ 12 時： _____ 15 時： _____

浜田上空の空気塊の移動と地形との関係

12 時： _____ 15 時： _____

②

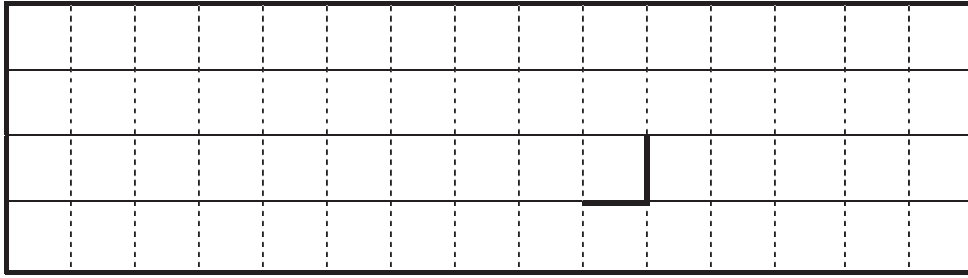


切り離さないでください

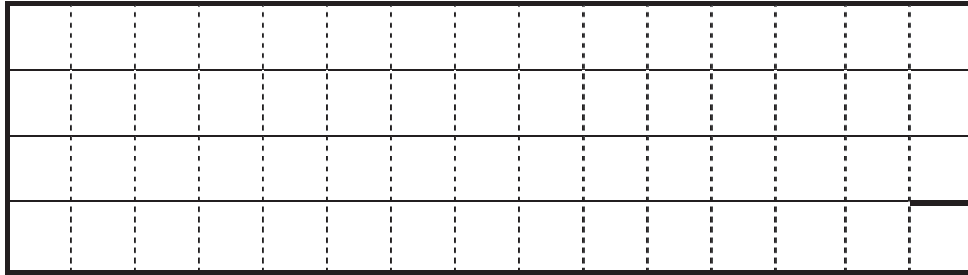
この部分実線の左側に書かれた解答は採点しません

切り離さないでください

(2) ③ 12 時




15 時



(3) _____ km/h

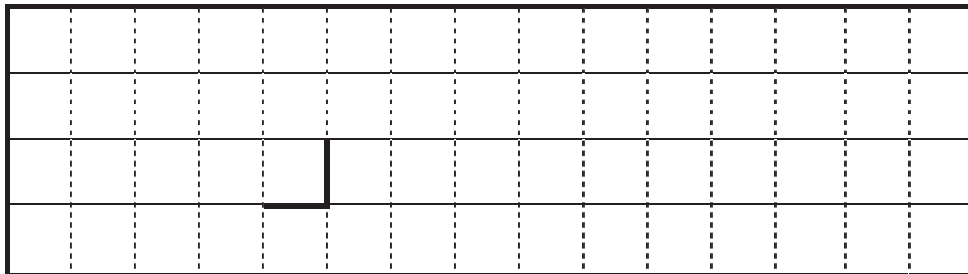
(4) ① 時刻 A : _____ 時 _____ 分 時刻 B : _____ 時 _____ 分

②



③ _____

④



⑤ ① 時刻 _____ ② 時刻 _____ ③ 時刻 _____

⑥ _____

切り離さないでください

この部分(実線の左側)に書かれた解答は採点しません

切り離さないでください