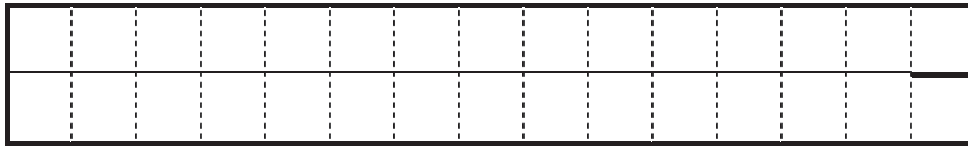





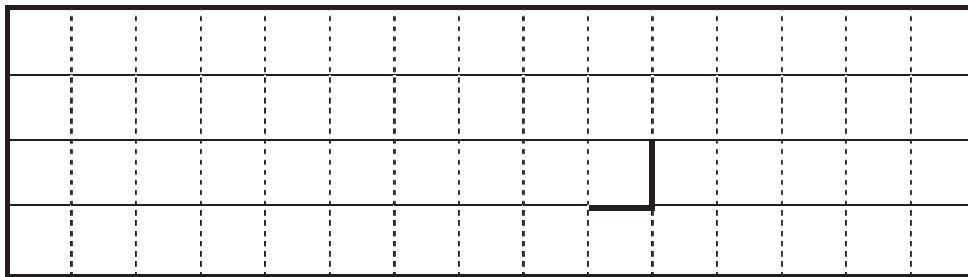
② トラフとの位置関係



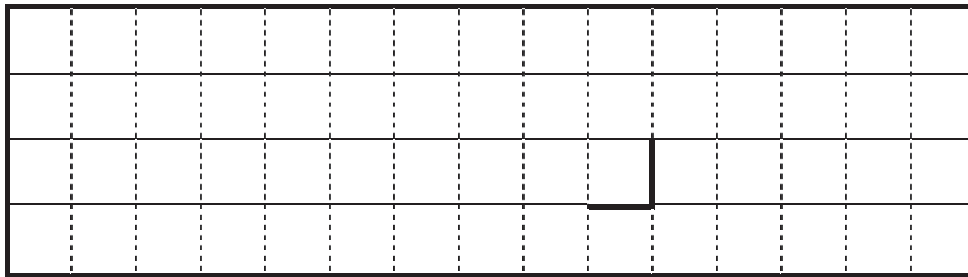
雲の連なる方向や位置



③ 雲域B




雲域C



問2

(1) ① 東経 \_\_\_\_\_ °

②

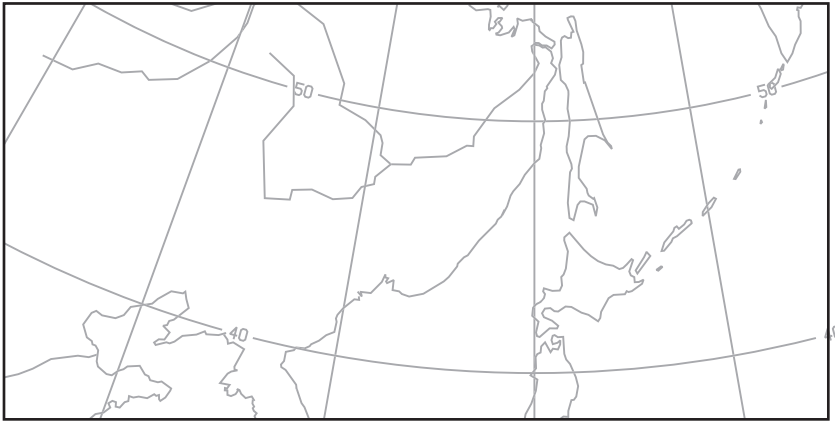


切り離さないでください

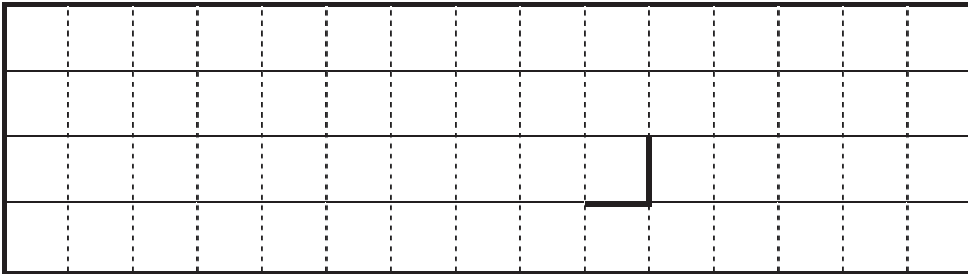
この部分(実線の左側)に書かれた解答は採点しません

切り離さないでください

(2) ①

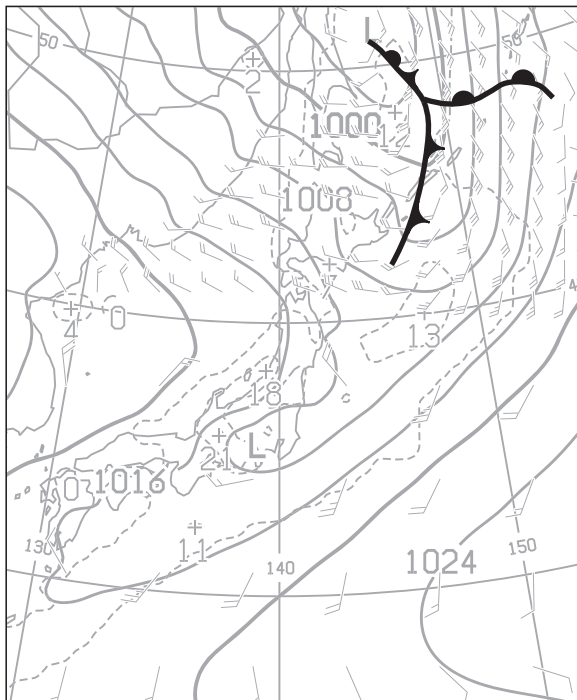


②



③ \_\_\_\_\_

(3)



(4) ① \_\_\_\_\_

② \_\_\_\_\_

③ \_\_\_\_\_

④ \_\_\_\_\_

⑤ \_\_\_\_\_

⑥ \_\_\_\_\_

⑦ \_\_\_\_\_

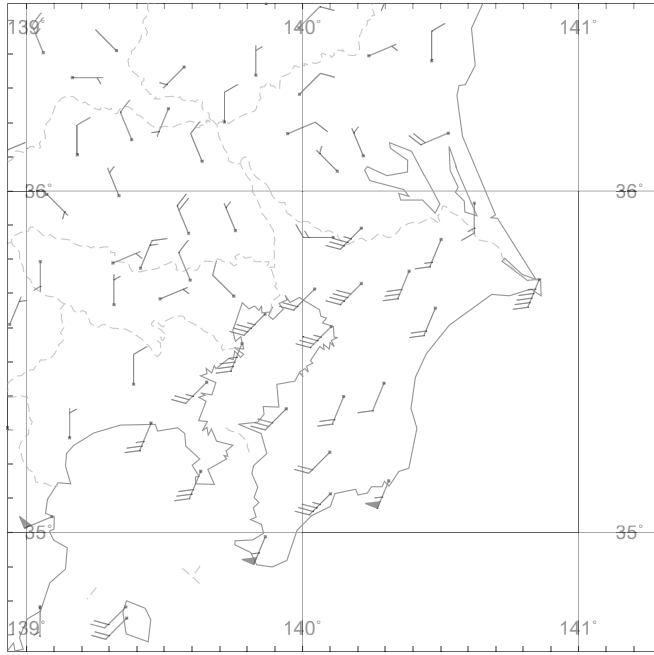
切り離さないでください

この部分(実線の左側)に書かれた解答は採点しません

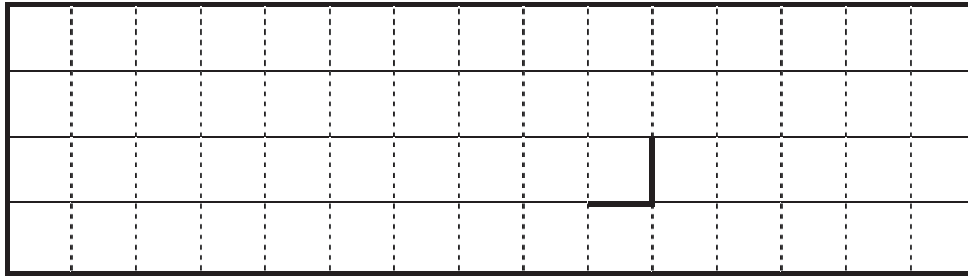
切り離さないでください

問 3

(1) ①



②



(2) ① \_\_\_\_\_ ② \_\_\_\_\_ ③ \_\_\_\_\_

④ \_\_\_\_\_ ⑤ \_\_\_\_\_ ⑥ \_\_\_\_\_

⑦ \_\_\_\_\_ ⑧ \_\_\_\_\_ ⑨ \_\_\_\_\_

⑩ \_\_\_\_\_

(3) \_\_\_\_\_

(4) ① 上端の気圧 \_\_\_\_\_ hPa      厚さ \_\_\_\_\_ hPa

上端の高度 \_\_\_\_\_ m      厚さ \_\_\_\_\_ m

② 分母F \_\_\_\_\_      水平幅 \_\_\_\_\_ km

切り離さないでください

この部分(実線の左側)に書かれた解答は採点しません

切り離さないでください