

持ち帰り禁止

受験番号

--	--	--	--	--	--

フリガナ

氏名

採点欄

--

問1

(1) ① _____ ② _____ ③ _____

④ _____ ⑤ _____ ⑥ _____

⑦ _____ ⑧ _____ ⑨ _____

⑩ _____ ⑪ _____ ⑫ _____

(2) ① 鹿児島 _____

②

問2

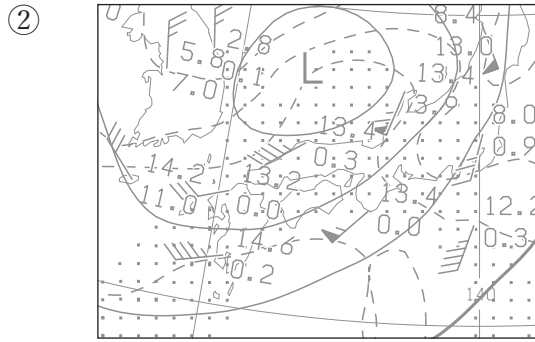
(1)

切り離さないでください

この部分(点線の左側)に書かれた解答は採点しません

切り離さないでください

(2) ① _____ °C




③ _____ hPa

④ _____ m


⑤ 1 : _____

(3) 下端 : _____ hPa 上端 : _____ hPa

湿度と気温の鉛直分布の特徴



(4)



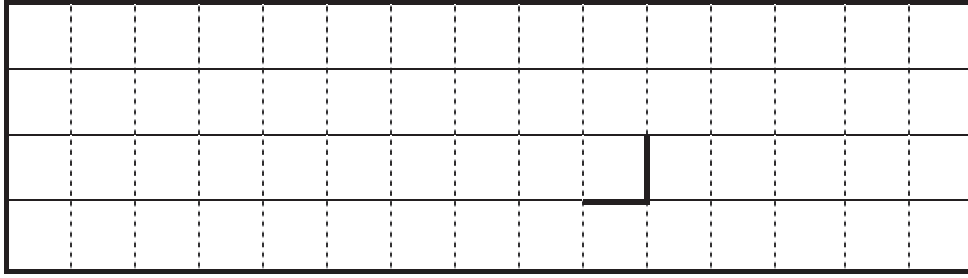
切り離さないでください

この部分(点線の左側)に書かれた解答は採点しません


切り離さないでください

問3

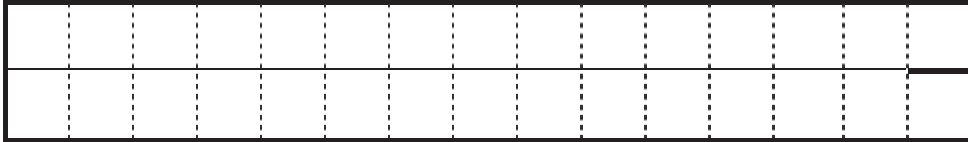
(1) ① 鉛直流の特徴



湿数の特徴



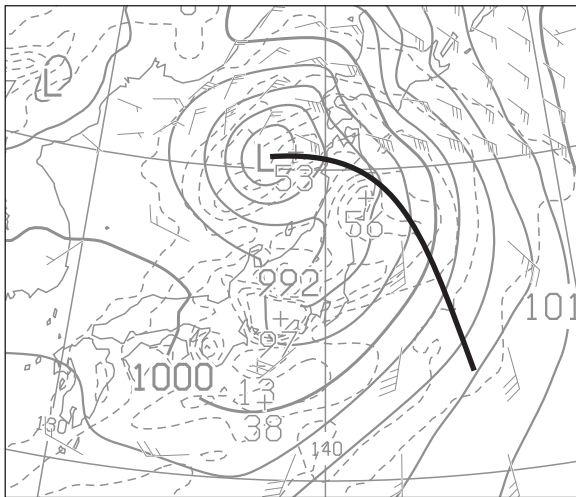
②



③



(2)



(3) _____ m

切り離さないでください

この部分(点線の左側)に書かれた解答は採点しません

切り離さないでください

切り離さないでください

(4)

(5) ① _____ 倍

②

③

M	S	M	ガ	イ	ダ	ン	ス	は	,											

(6) ① 時刻： _____ 時 _____ 分
根拠

② 降水量： _____ mm 時刻： _____ 時 _____ 分

平均降水強度： _____ mm/h

③ _____ m³/s

④ _____

⑤ 基準：

切り離さないでください