

持ち帰り禁止

受験番号

Grid for entering the examination number (6 cells).

フリガナ

氏名

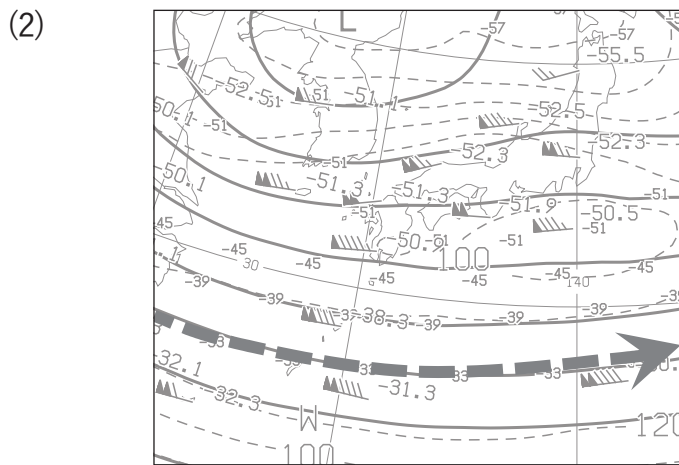
採点欄

Empty box for marking.

切り離さないでください

問1

- (1) ① _____ ② _____ ③ _____
- ④ _____ ⑤ _____ ⑥ _____
- ⑦ _____ ⑧ _____ ⑨ _____



- (3) 四国の南にある低気圧: _____
- 山陰沿岸にある低気圧: _____

- (4) ① 形状: _____
- 厚み: _____ 上/中/下層雲の別: _____


位置関係

A grid for describing the positional relationship between systems, with one cell already filled in the second row, second column.

この部分実線の左側に書かれた解答は採点しません


切り離さないでください

② 形状




厚み: _____ 上/中/下層雲の別: _____

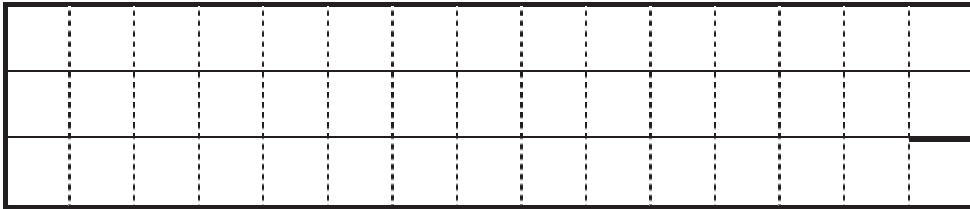
(5) ①



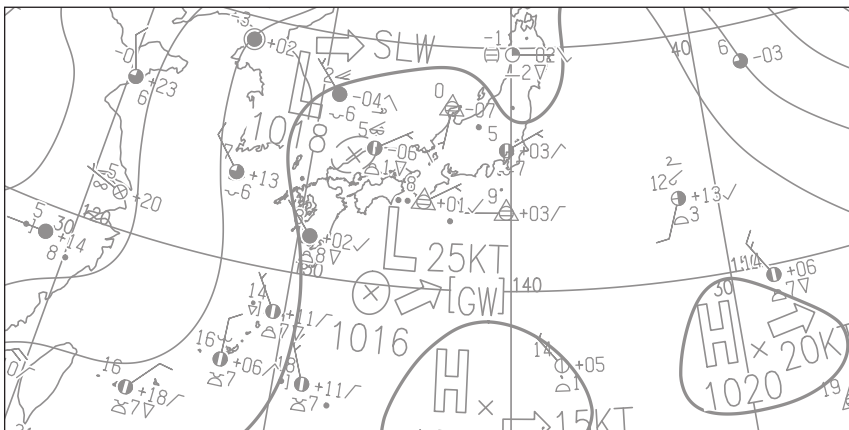
②



③



(6)



切り離さないでください

この部分実線の左側に書かれた解答は採点しません

切り離さないでください

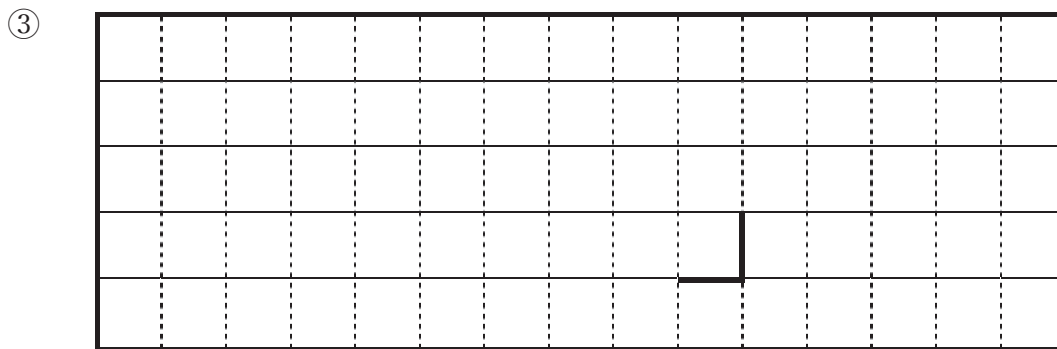
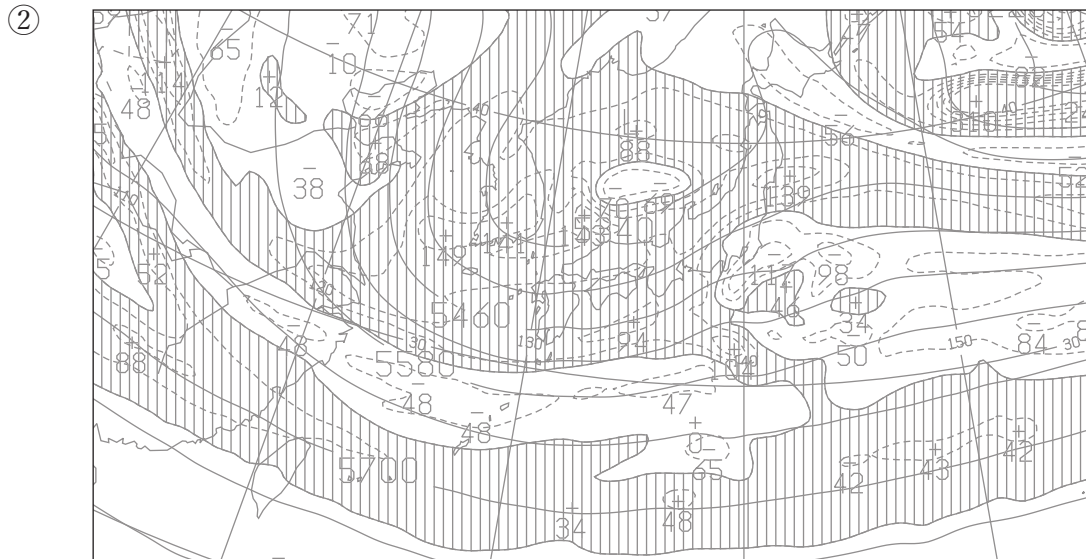
問 2

(1) ① 中心位置 5 日 9 時: 北緯 _____ ° 東経 _____ °

5 日 21 時: 北緯 _____ ° 東経 _____ °

中心気圧降下量 4 日 21 時~5 日 9 時: _____ hPa

5 日 9 時 ~5 日 21 時: _____ hPa



④ 等高度線: _____ m

中心位置: 強風軸の _____

⑤ 位置: 北緯 _____ ° 東経 _____ °

等温線: _____ °C

切り離さないでください


この部分実線の左側に書かれた解答は採点しません

切り離さないでください

(2) ① 中心位置： 北緯 _____ ° 東経 _____ °

中心気圧： _____ hPa

②



問3

(1) ① _____ ② _____ ③ _____ ④ _____

⑤ _____ ⑥ _____ ⑦ _____ ⑧ _____

⑨ _____ ⑩ _____

(2) A : _____ B : _____


(3) 北緯 _____ ° 東経 _____ °

(4) ① _____ ② _____ ③ _____

④ _____ ⑤ _____ ⑥ _____

⑦ _____ ⑧ _____

④



切り離さないでください

この部分(実線の左側)に書かれた解答は採点しません

切り離さないでください