

持ち帰り禁止

受験番号

--	--	--	--	--	--

フリガナ

氏名

採点欄

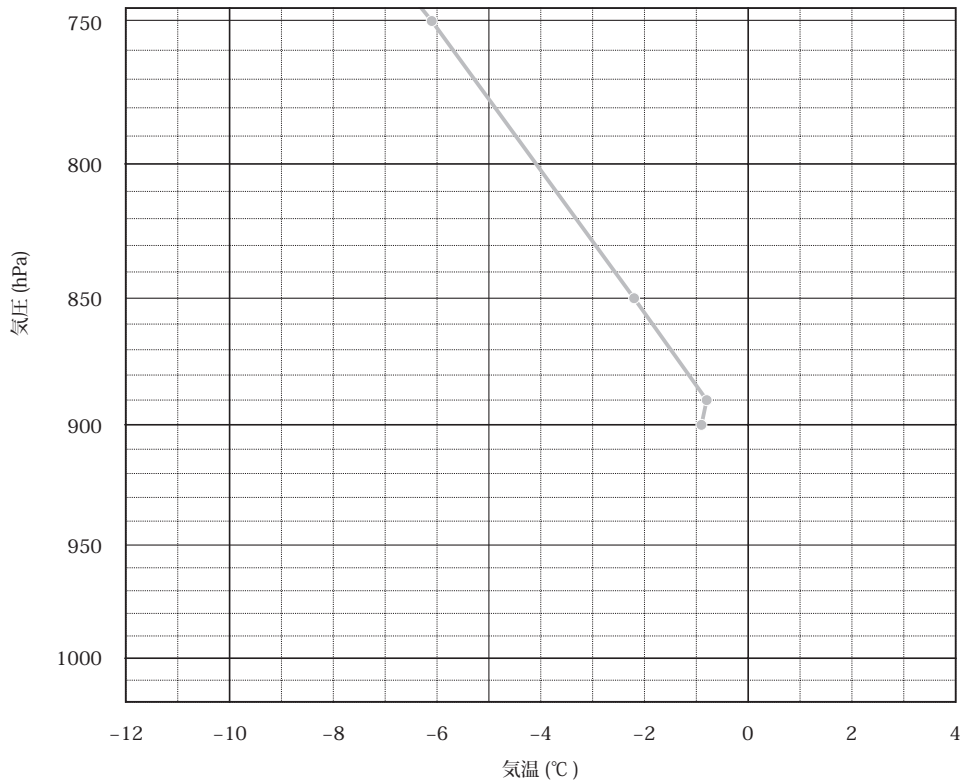
--

切り離さないでください

問1

- (1) ① _____ ② _____ ③ _____ ④ _____
 ⑤ _____ ⑥ _____ ⑦ _____ ⑧ _____
 ⑨ _____ ⑩ _____ ⑪ _____

- (2) ①



- ② 館野: _____ hPa 松江: _____ hPa

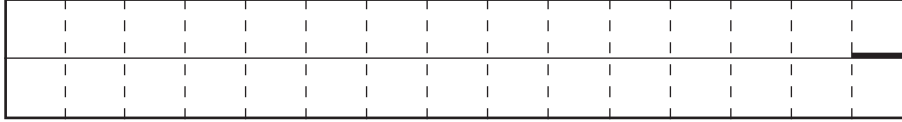
- ③

切り離さないでください

問 2

(1) ① A : 東経 _____ ° B : _____ m

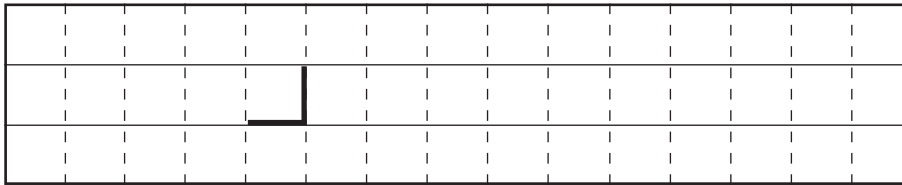
② トラフ A の位置関係の変化



発達への寄与： 有 無 ←どちらか一方を○で囲む

③ 初期時刻～12 時間後

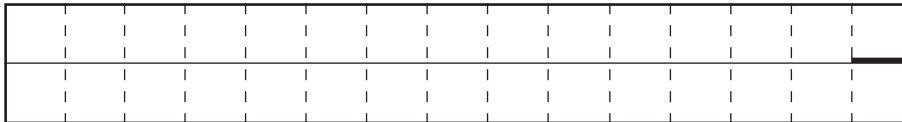
トラフ B の位置関係の変化



発達への寄与： 有 無 ←どちらか一方を○で囲む

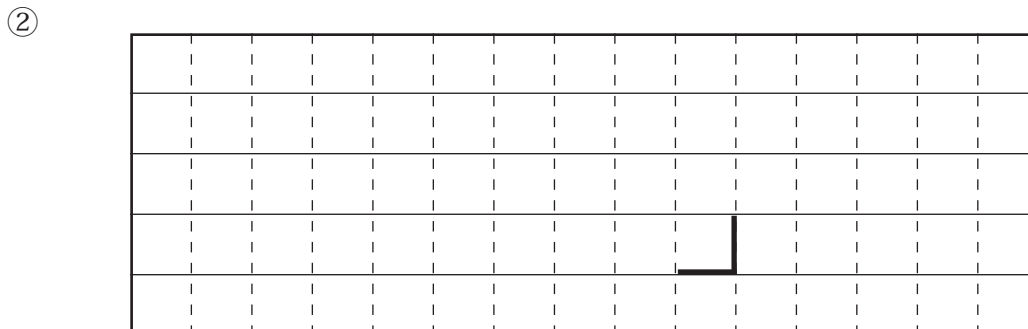
12 時間後～24 時間後

トラフ B の位置関係の変化



発達への寄与： 有 無 ←どちらか一方を○で囲む

(2) ① 時間帯： _____ 中心気圧降下量： _____ hPa



切り離さないでください

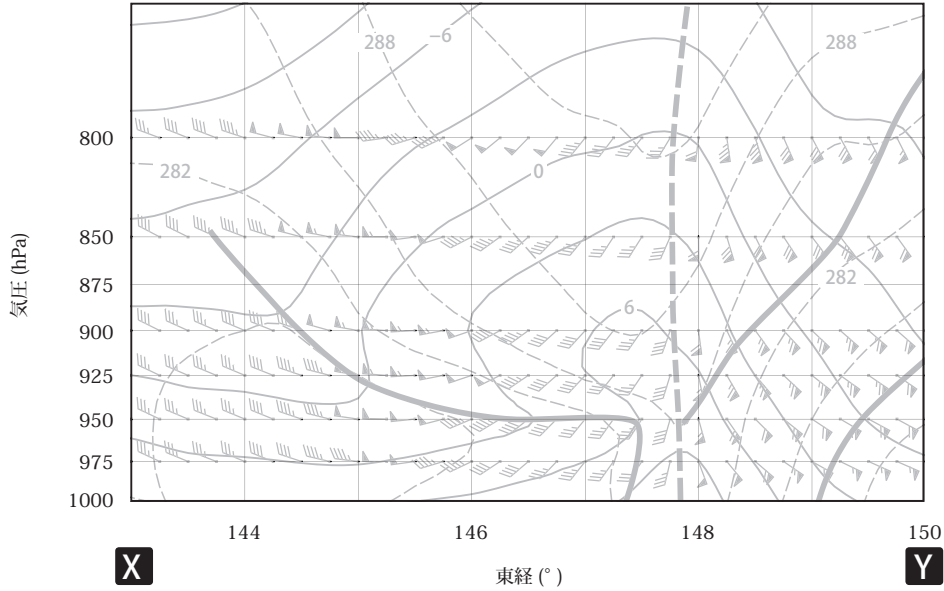
この部分(点線の左側)に書かれた解答は採点しません

切り離さないでください

問3

- (1) ① _____ ② _____ ③ _____ ④ _____
 ⑤ _____ ⑥ _____

(2)



問4

(1) _____ 日の _____

(2)

要素 \ 予想時間	T=3~6	T=6~9	T=9~12	T=12~15	T=15~18	T=18~21	T=21~24
3時間降雪量 (cm)	0						0

(3) 大雪注意報： _____ 日の _____

大雪警報： _____ 日の _____

(4) 種類： _____

根拠

切り離さしないでください

この部分(点線の左側)に書かれた解答は採点しません

切り離さしないでください