

持ち帰り禁止

受験番号

--	--	--	--	--	--	--

フリガナ

氏 名

フリガナ
氏 名

採点欄

--

問 1

(1)

① _____ ② _____ ③ _____ ④ _____

⑤ _____ ⑥ _____ ⑦ _____ ⑧ _____

⑨ _____ ⑩ _____ ⑪ _____ ⑫ _____

⑬ _____

(2)

移流の種類：

暖気移流	寒気移流
------	------

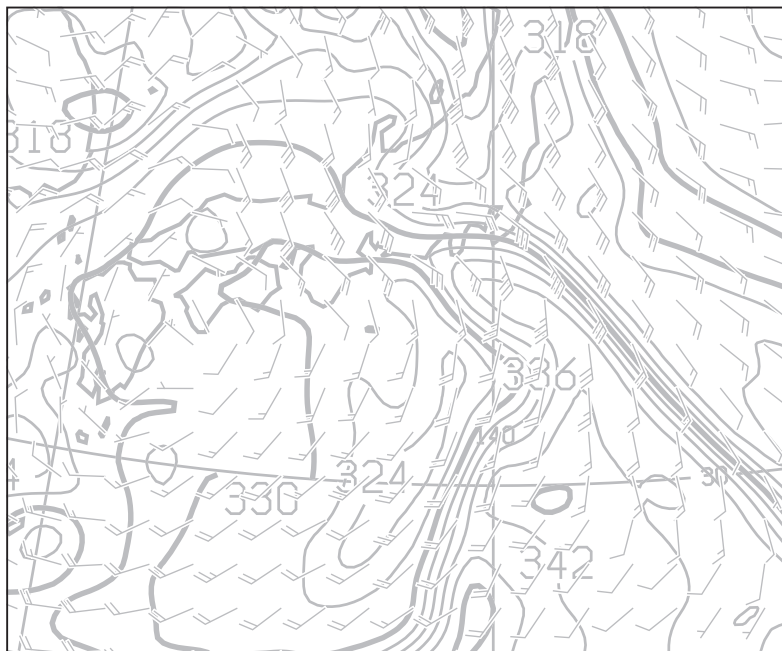
←どちらか一方を○で囲む

理由

問 2

(1)

①



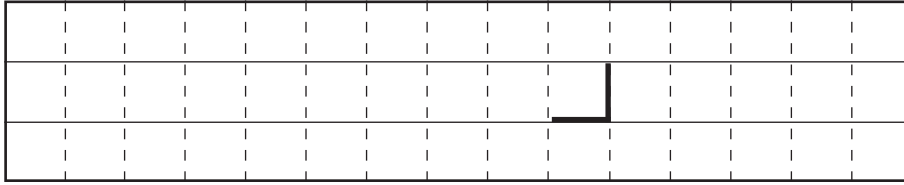
切り離さしないでください

この部分(点線の左側)に書かれた解答は採点しません

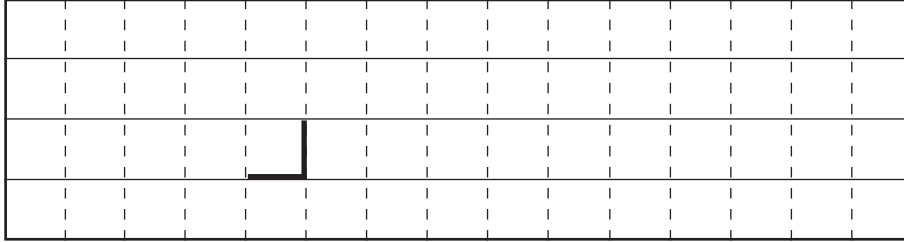
切り離さしないでください

(1)

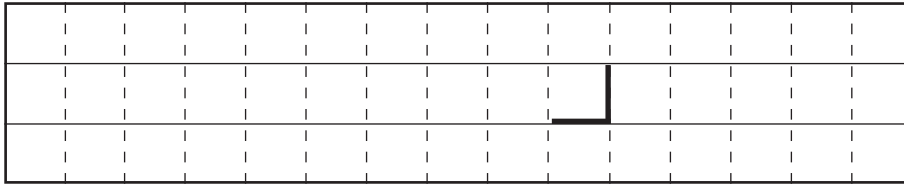
②



③



④



(2)

領域 X : _____ 領域 Y : _____ 領域 Z : _____

対流が最も発生しやすい領域 : 領域 _____

(3)

① 地点 a 気温 : _____ °C 湿数 : _____ °C 混合比 : _____ g/kg

地点 b 気温 : _____ °C 湿数 : _____ °C 混合比 : _____ g/kg

② 地点 a : _____ °C 地点 b : _____ °C

③ ア : _____ イ : _____ ウ : _____

エ : _____ オ : _____

(4)

_____ °C

切り離さないでください

この部分 (点線の左側) に書かれた解答は採点しません

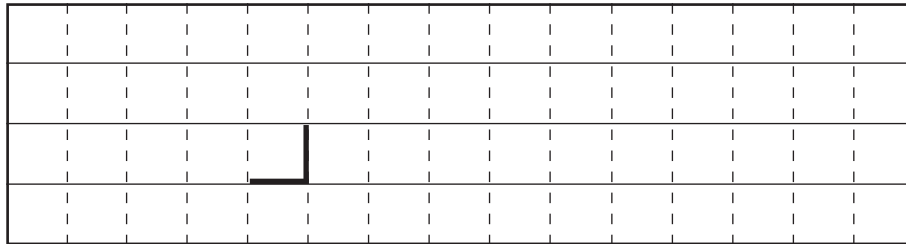
切り離さないでください

問3

(1) 低気圧 盛衰: _____ 移動方向: _____

高気圧 盛衰: _____ 移動方向: _____

(2) ①

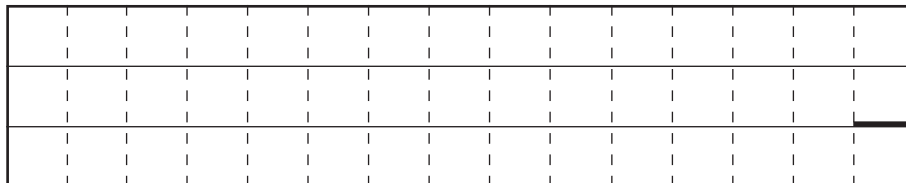


② 北緯 _____ ° 東経 _____ °

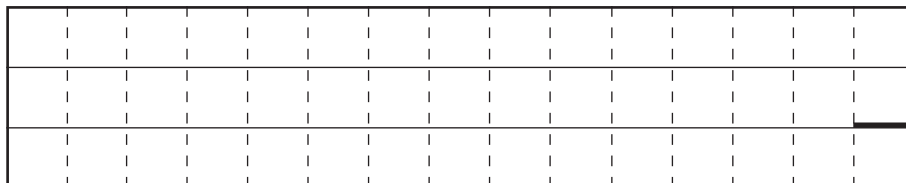
③ 北緯 _____ ° 東経 _____ °

問4

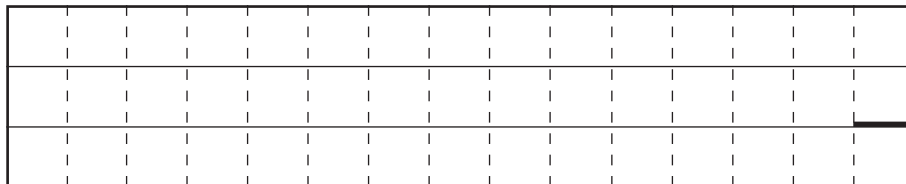
(1) ①



②



③



切り離さないでください

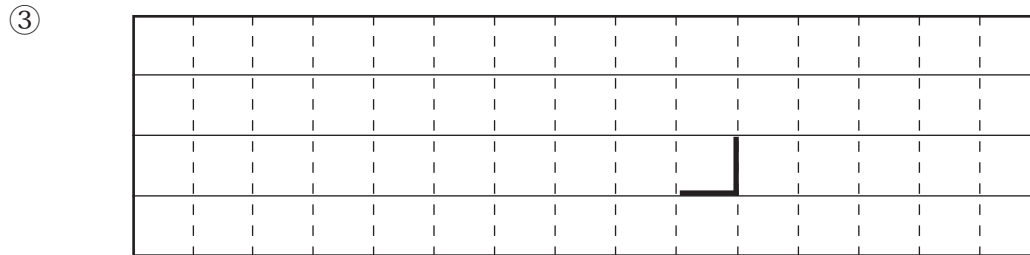
この部分 (点線の左側) に書かれた解答は採点しません

切り離さないでください

(2) ① 東京の前 3 時間降水量の最大値： _____ 日 _____ 時まで _____ mm

横浜の前 1 時間降水量の最大値： _____ 日 _____ 時まで _____ mm

② 東京： _____ 横浜： _____



④ 指標： _____ 災害名： _____

切り離さないでください

この部分 (点線の左側) に書かれた解答は採点しません

切り離さないでください