

持ち帰り禁止

受験番号

--	--	--	--	--	--	--

フリガナ

氏 名

採点欄

--

切り離さないでください

問 1

(1) 等高度線：_____ m

位置関係

(2) _____

(3) _____

(4) _____

(5) ① _____ ② _____ ③ _____

④ _____ ⑤ _____ ⑥ _____

⑦ _____ ⑧ _____ ⑨ _____

⑩ _____ ⑪ _____ ⑫ _____

⑬ _____

この部分(点線の左側)に書かれた解答は採点しません

切り離さないでください

問 2

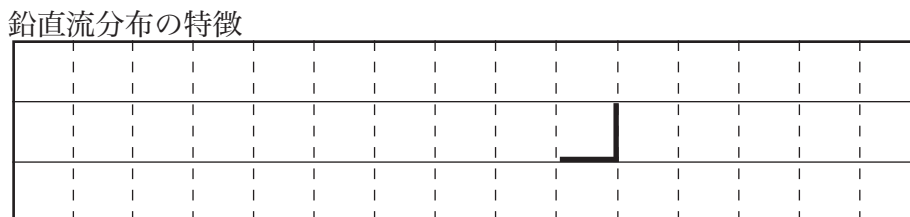
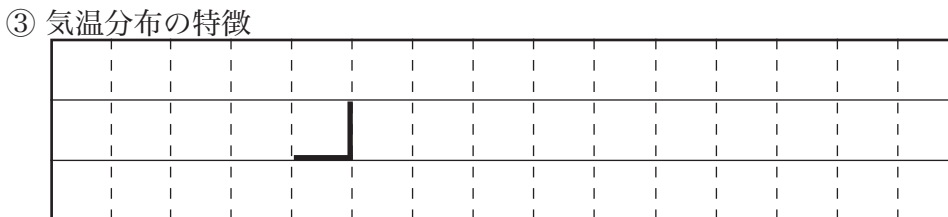
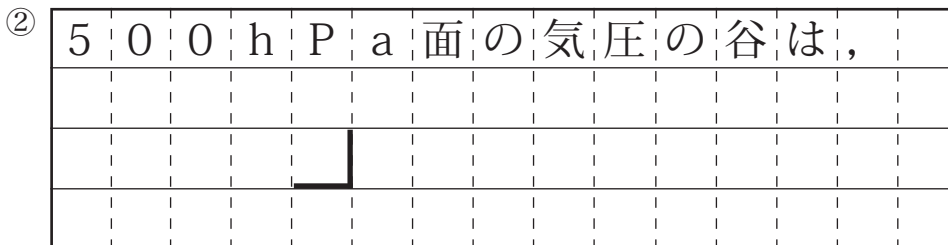

(1) 中心位置：北緯 _____ ° 東経 _____ ° 中心気圧： _____ hPa

移動方向： _____ 速さ： _____ ノット

12 時間後から 24 時間後までの移動と盛衰： _____

(2) 前 12 時間 移動方向： _____

後 12 時間 移動方向： _____ 速さ： _____ ノット



④ 25 日 21 時：北緯 _____ ° 26 日 21 時：北緯 _____ °

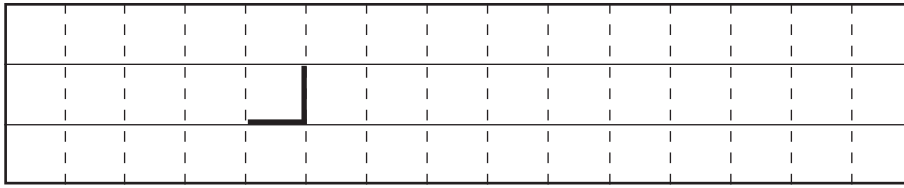
切り離さないでください

この部分(点線の左側)に書かれた解答は採点しません

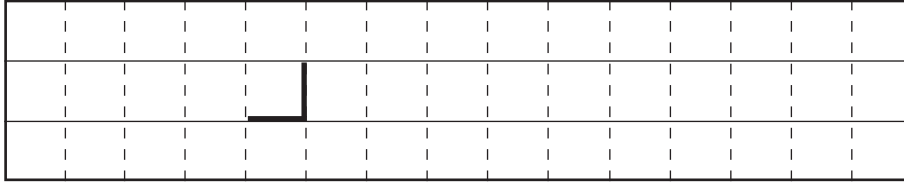
切り離さないでください

(4)

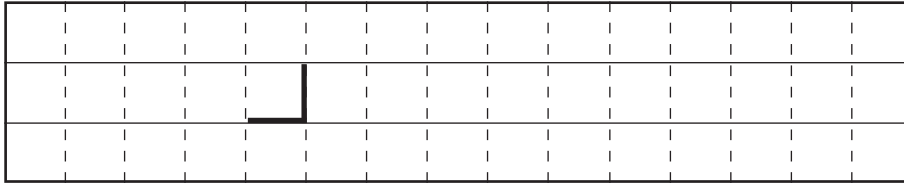
①



②

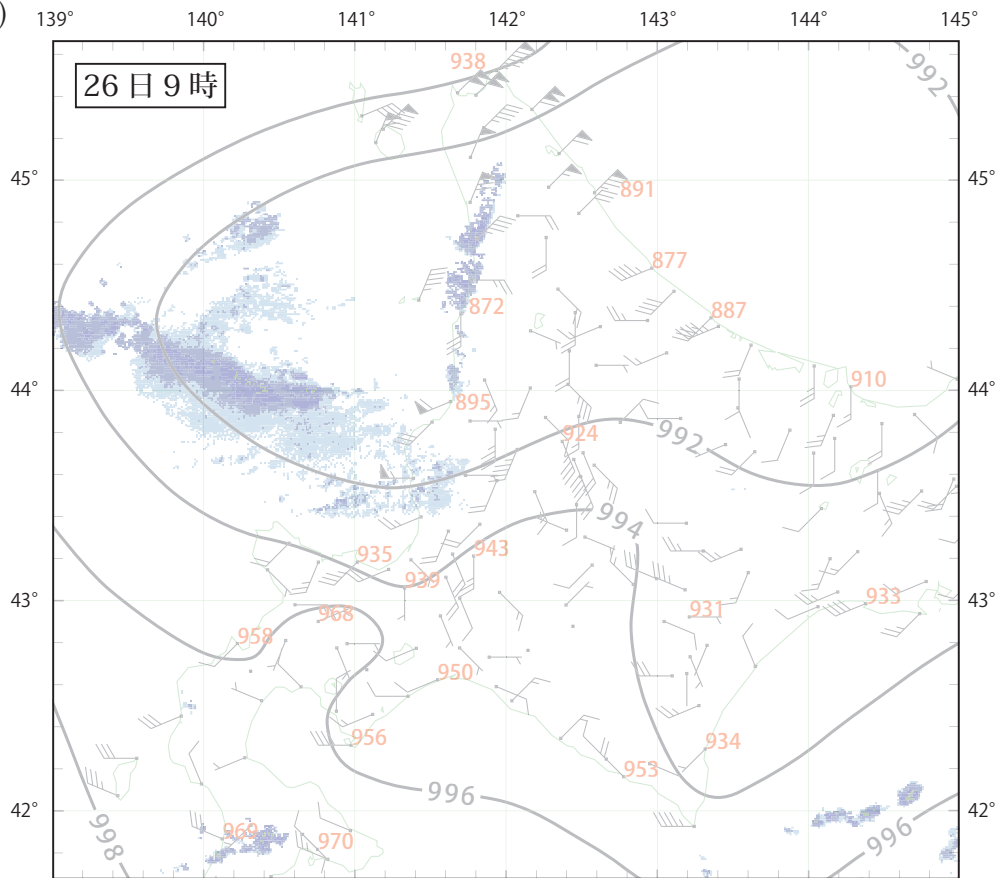


③



問 3

(1)

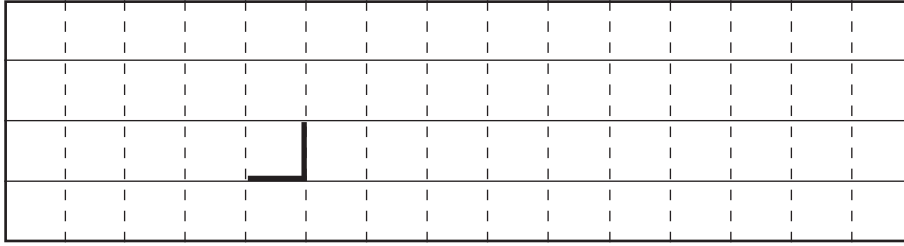


切り離さないでください

この部分(点線の左側)に書かれた解答は採点しません

切り離さないでください

(2)



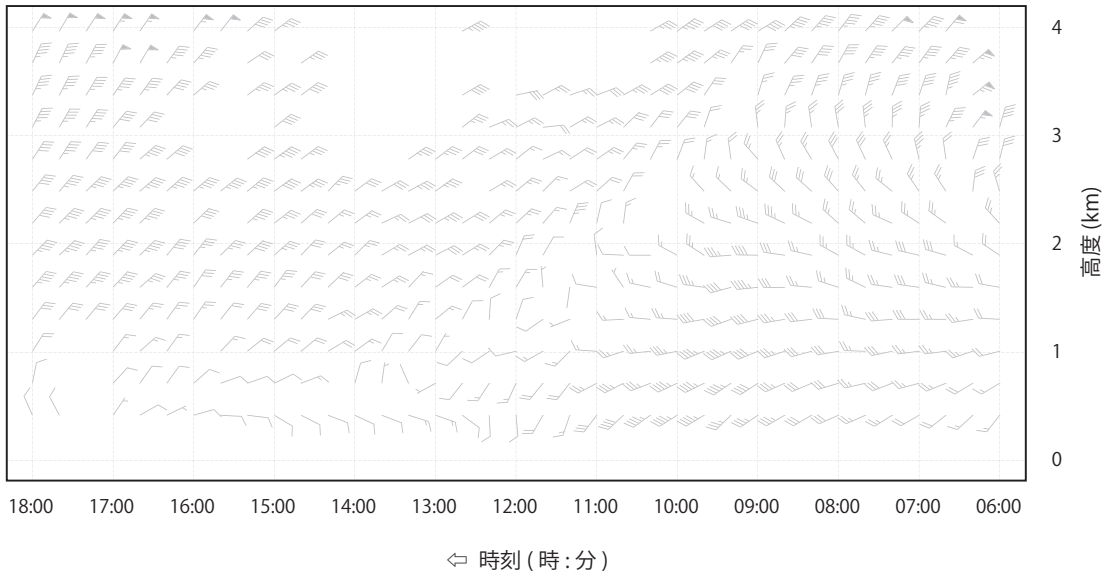
(3)

① 東経 141.0° : _____ km/h 東経 140.2° : _____ km/h

② 小樽 : _____ 時 _____ 分 寿都 : _____ 時 _____ 分

(4)

①



② _____

(5)

① _____ ② _____ ③ _____

④ _____ ⑤ _____ ⑥ _____

⑦ _____ ⑧ _____ ⑨ _____

⑩ _____ ⑪ _____

切り離さないでください

この部分(点線の左側)に書かれた解答は採点しません

切り離さないでください