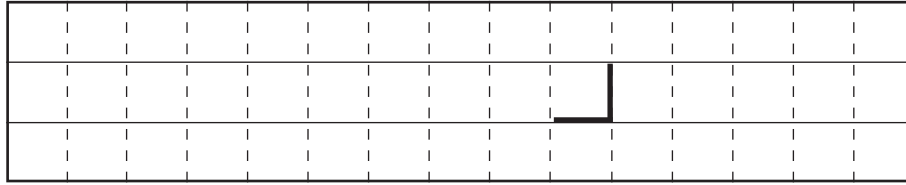


(3) ①

低気圧の通過位置： _____ 側

根拠



②

雨の降り出し： _____ 日 _____ 時過ぎ

最大 3 時間降水量の出現日時： _____ 日 _____ 時

最大 3 時間降水量： _____ mm

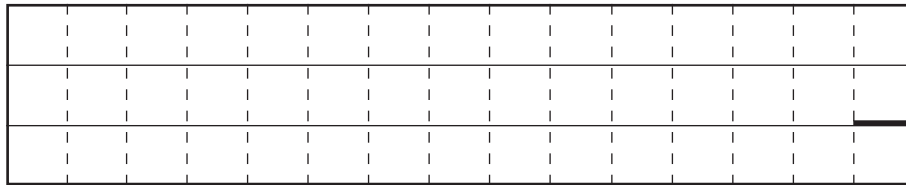
問 4

(1)

①

温度移流の種類： _____

根拠



②

逆転層の上端の高度： _____ hPa 前線の種類： _____ 前線

③

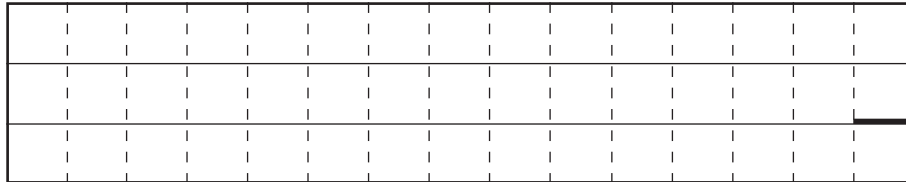
(2)

①

②

逆転層の下端の高度： _____ hPa

成因



切り離さないでください

この部分 (点線の左側) に書かれた解答は採点しません

切り離さないでください

