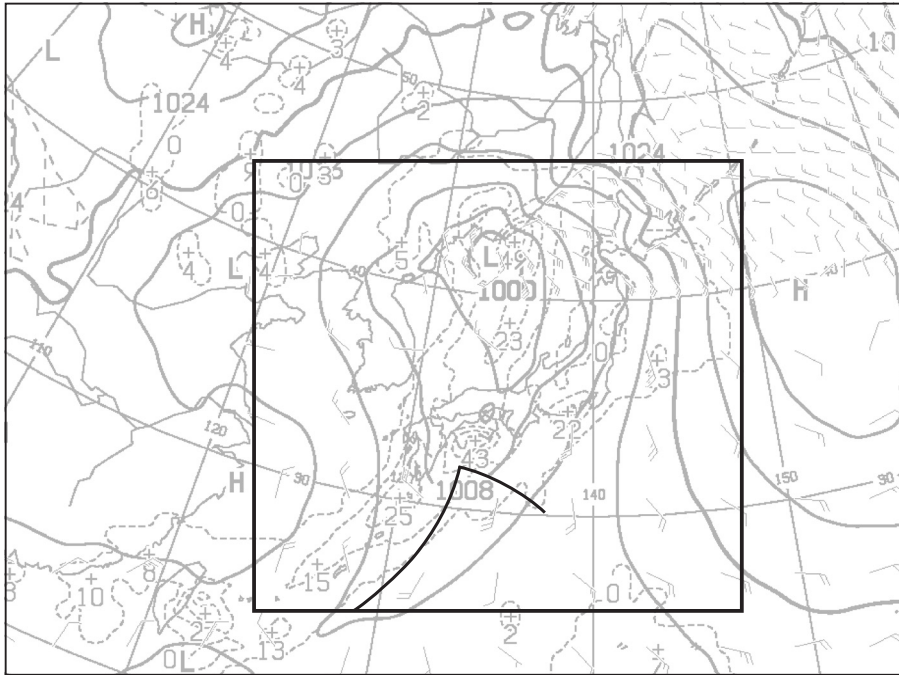


問 2

(1)



(2) 初期時刻～ 24 時間後： _____ hPa 24 時間後～ 48 時間後： _____ hPa

(3) 発達段階： _____

根拠

(4) ① _____ ② _____ ③ _____

④ _____ ⑤ _____

切り離さないでください

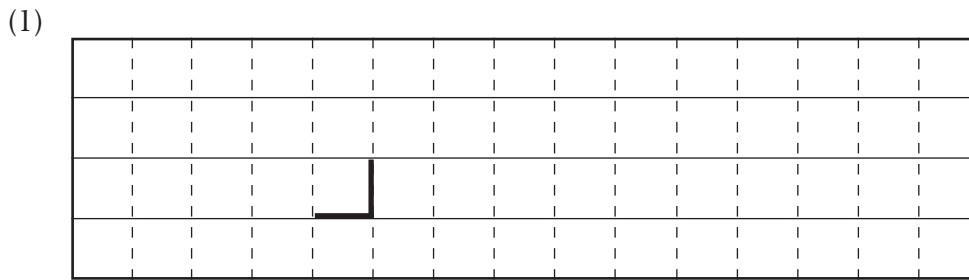
この部分(点線の左側)に書かれた解答は採点しません

切り離さないでください


問 3

- (1) 前線の _____
- (2) _____
- (3) (a) _____ (b) _____ (c) _____ (d) _____
- (4) _____ → _____ → _____

問 4



(2) _____ (3) _____ mm _____ hPa/h



(5) 36 時間後 : _____ °C 48 時間後 : _____ °C 降水の型 : _____

(6) _____ , _____

切り離さないでください

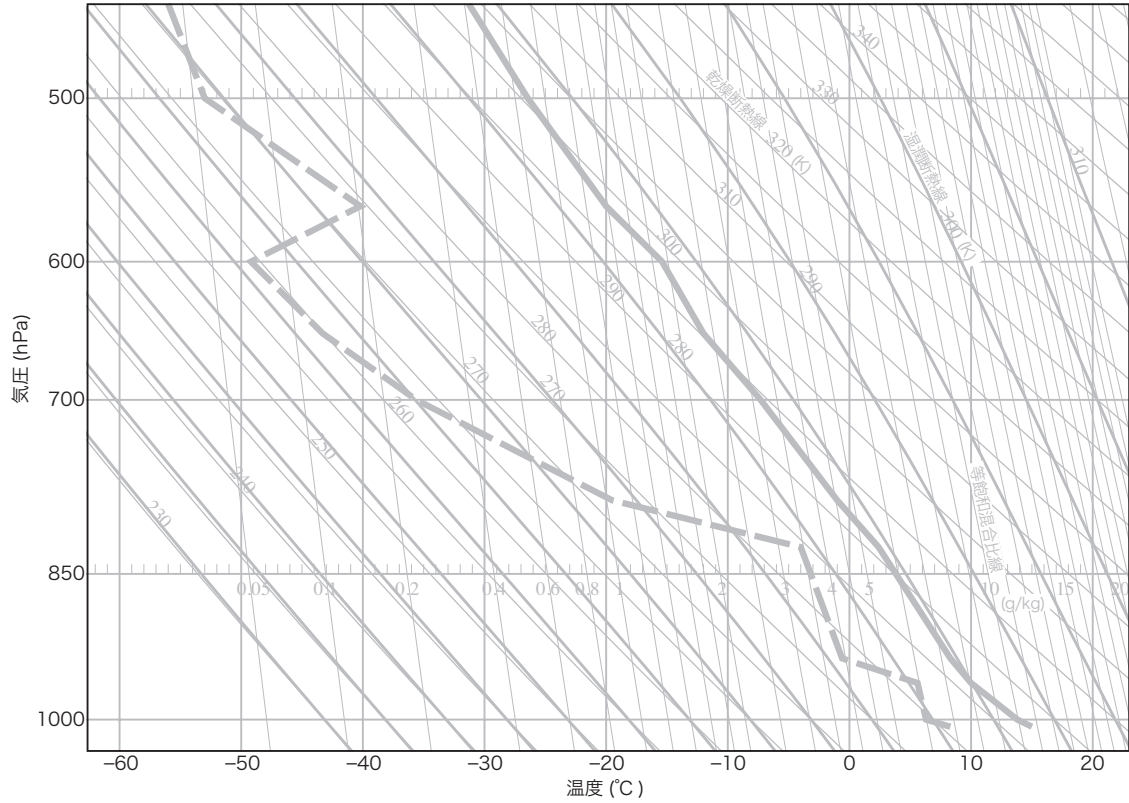
この部分(点線の左側)に書かれた解答は採点しません

切り離さないでください

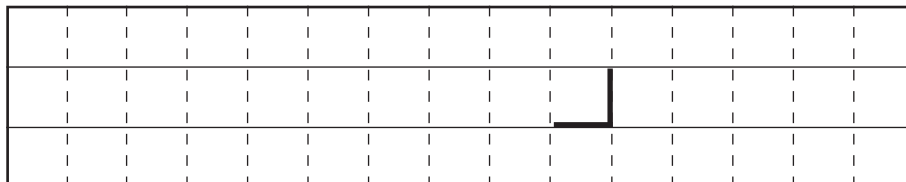
問 5

(1) SSI : _____ °C

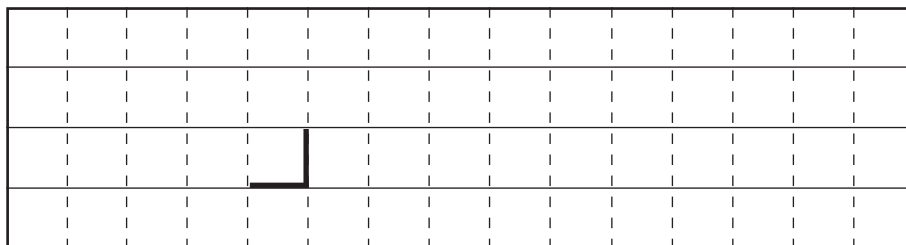
作図過程



(2)



(3)



(4)

切り離さないでください

この部分 (点線の左側) に書かれた解答は採点しません

切り離さないでください