

持ち帰り禁止

受験番号

--	--	--	--	--	--	--

フリガナ

氏 名

--	--	--	--	--	--	--	--	--	--	--	--	--	--	--	--	--

採点欄

--	--	--	--	--

切り離さないでください

問 1

(1)

① _____ ② _____ ③ _____

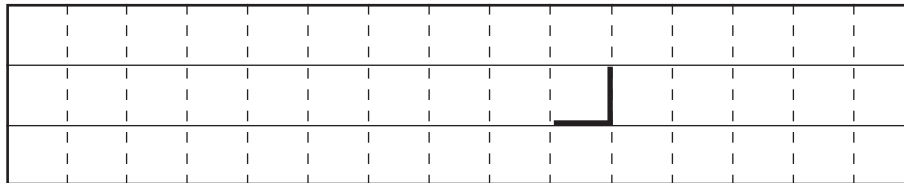
④ _____ ⑤ _____ ⑥ _____

⑦ _____ ⑧ _____ ⑨ _____

(2)

① パターン名 : _____

高度場の特徴と低気圧の変化



② 雲の種類 : _____ , _____

成因 : _____

この部分(点線の左側)に書かれた解答は採点しません

切り離さないでください


問 2

(1)

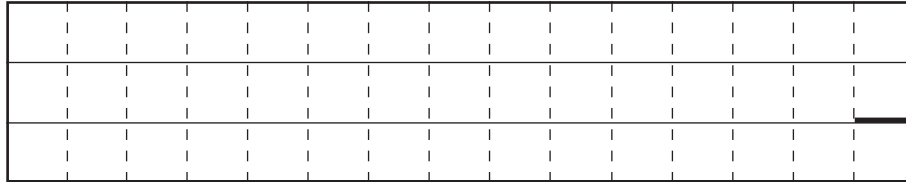
①

通過した時間帯：3日 _____ 時 ~ 3日 _____ 時

根拠



②



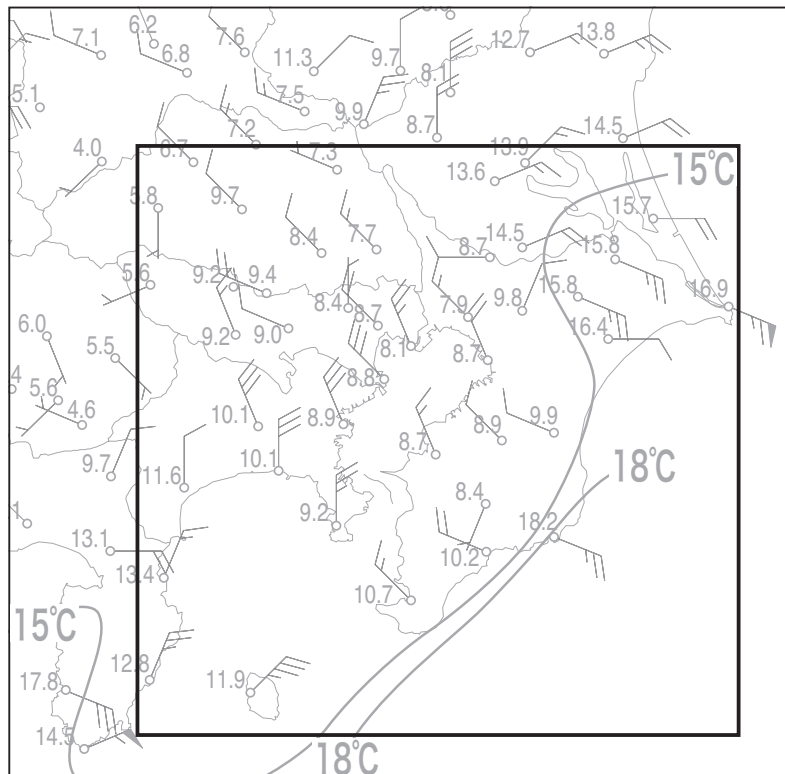
(2)

3日 _____ 時頃

問 3

(1)

①



切り離さないでください

この部分 (点線の左側) に書かれた解答は採点しません

切り離さないでください

(1)

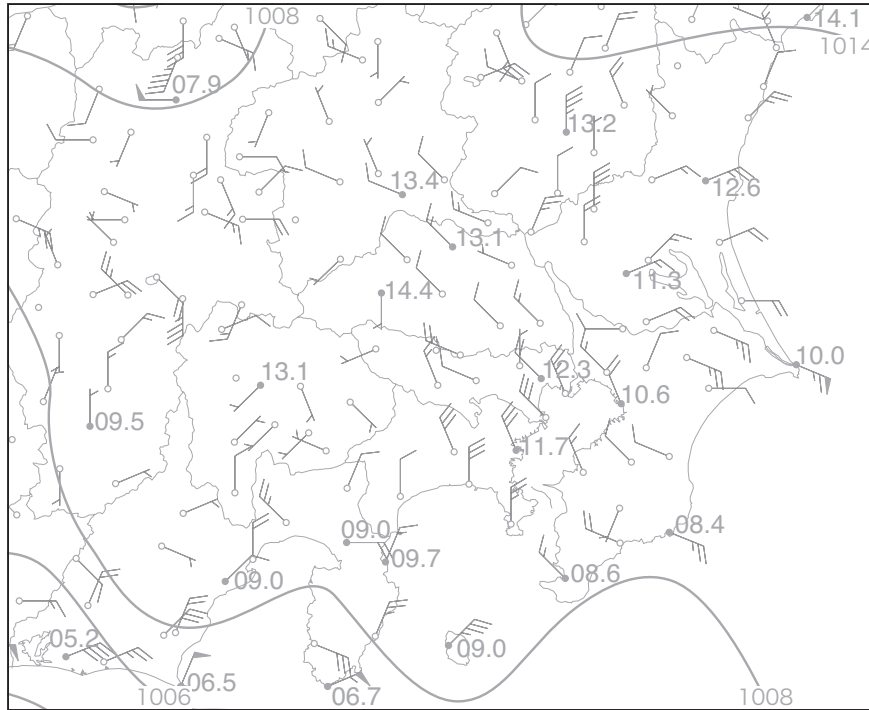
②

鴨川と勝浦間： _____ °C/10km 勝浦と八丈島間： _____ °C/10km

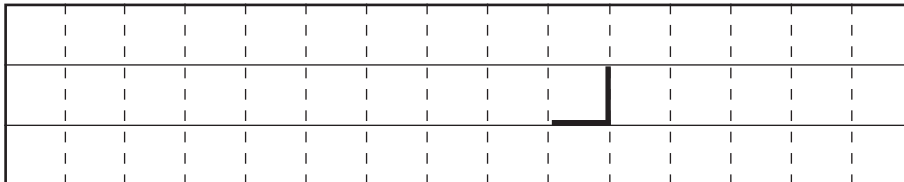
温度勾配の倍率： _____ 倍

(2)

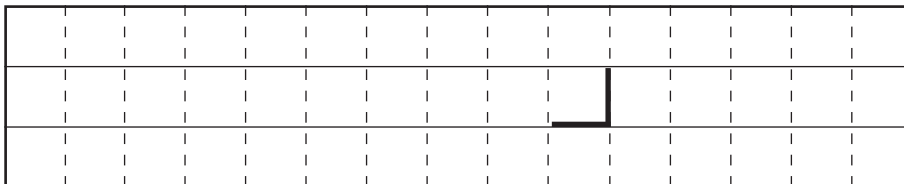
①



②



③



(3)

① _____ kg/m³

② 熊谷： _____ hPa 勝浦： _____ hPa

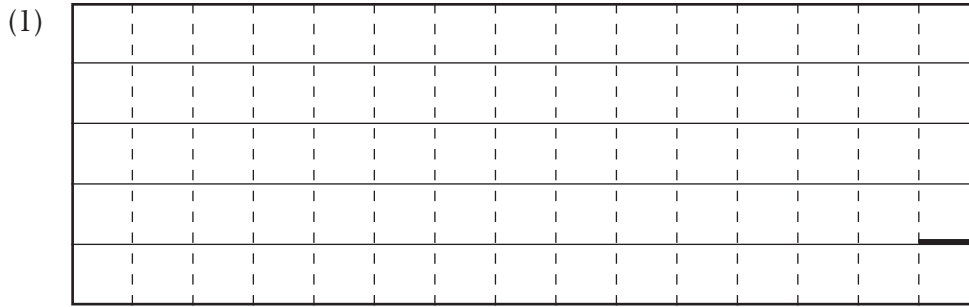
③ _____ hPa

切り離さないでください

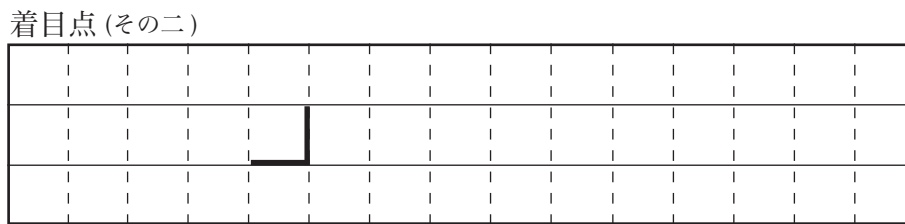
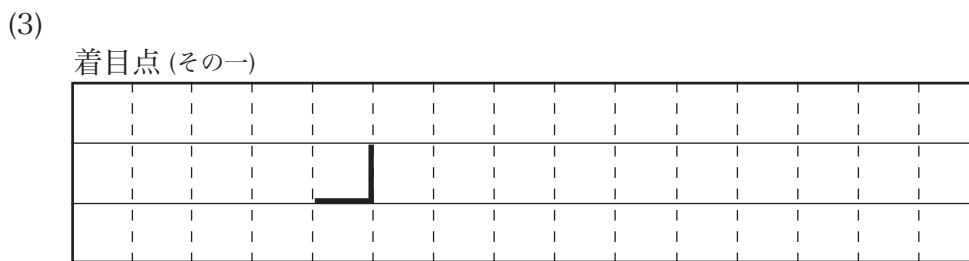
この部分（点線の左側）に書かれた解答は採点しません

切り離さないでください

問4



(2) _____



問5

(1) ① 波高：_____ m 卓越波向：_____ 卓越周期：_____ 秒

② 卓越周期が長い点：_____ 原因：_____

(2) ① _____ , _____ , _____

② _____ 注意報

切り離さないでください

この部分（点線の左側）に書かれた解答は採点しません

切り離さないでください