

持ち帰り禁止

受験番号

Grid for entering the examination number.

フリガナ

氏名

Grid for entering the candidate's name in katakana and kanji.

採点欄

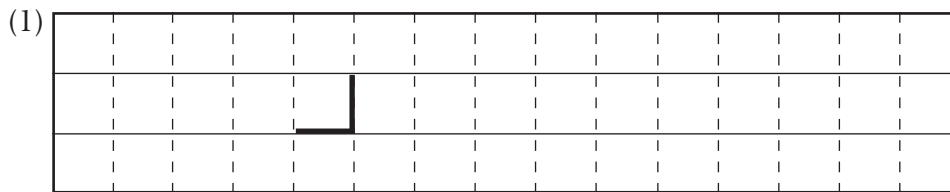
Grid for entering the score.

切り離さないでください

問1

- ① _____ ② _____ ③ _____
④ _____ ⑤ _____ ⑥ _____

問2



(2) 最大風速：_____ ノット 予想日時：_____ 日 _____ 時

Table with 3 columns: Time Period, Direction, and Trend. Rows for 24h-48h and 48h+.

(4) 現象の名称：_____

気象要素の変化



- (5) ① _____ ② _____ ③ _____
④ _____

この部分（点線の左側）に書かれた解答は採点しません

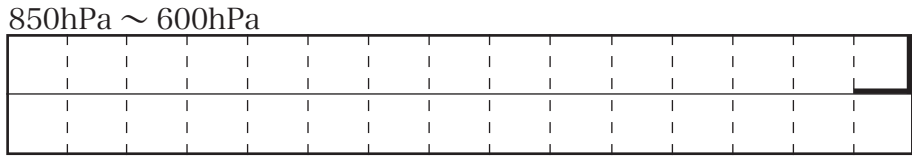
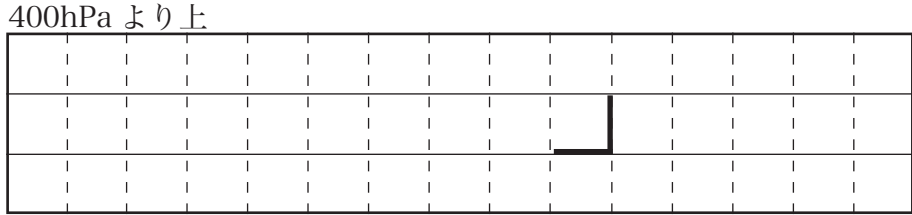
切り離さないでください

問 3

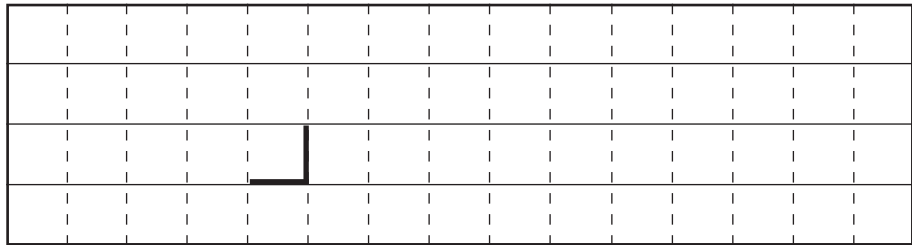
(1)

	台風	低気圧 A
300hPa における気温	周囲より ()	周囲より ()
850hPa 等圧面高度	周囲より ()	周囲と同程度

(2)



(3)



(4)

低気圧の名称： _____

起きやすい大気現象：

_____ , _____ , _____

切り離さないでください

この部分 (点線の左側) に書かれた解答は採点しません

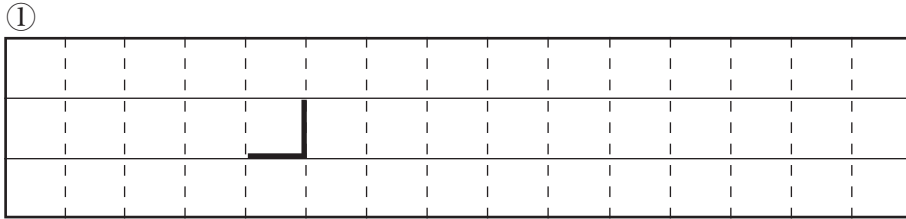
切り離さないでください

問 4

(1)


	地点イ	地点ロ
地表付近の気塊の 持ち上げ凝結高度 (LCL)	()hPa	990hPa
上記を更に持ち上げた場合の 自由対流高度 (LFC)	860hPa	()hPa
850hPa ~ 500hPa 間の ショワルターの安定指数 (SSI)	()°C	0°C

(2)

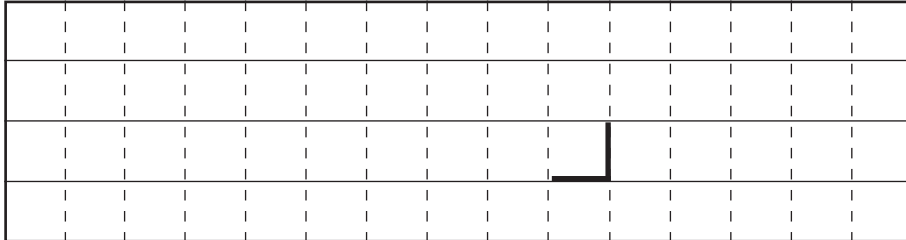


②


(3)



②



③



切り離さないでください

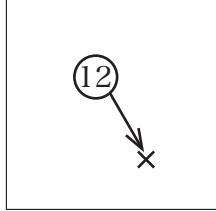
この部分(点線の左側)に書かれた解答は採点しません

切り離さないでください

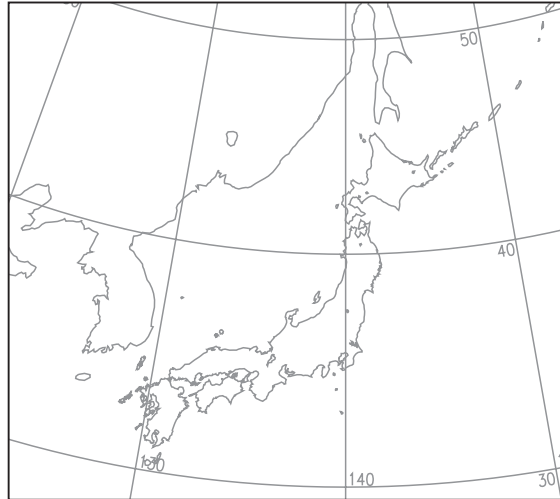
問 5

(1)

記入例



数字：予想時間
×印：予想位置



(2)

① _____

② _____

③ _____

(3)

① _____

② _____

③ _____

(4)

_____ , _____ , _____

切り離さないでください

この部分 (点線の左側) に書かれた解答は採点しません

切り離さないでください